








































## Los más vendidos Enero-diciembre. Unidades

Por MARCAS			Por MODELOS		
 SEAT	111.982		 Seat León	35.847	
 PEUGEOT	97.939		 Dacia Sandero	33.880	
 Volkswagen	94.328		 Nissan Qashqai	30.156	
 RENAULT	86.419		 Renault Clio	25.538	
 TOYOTA	71.697		 Renault Mégane	25.403	
 OPEL	69.103		 Seat Arona	25.128	
 CITROËN	67.151		 Seat Ibiza	25.121	
 HYUNDAI	62.766		 Volkswagen Golf	24.329	
 KIA	59.523		 Peugeot 3008	23.308	
 Ford	57.169		 Opel Corsa	22.352	

Observa y fíjate bien en la lista de las **marcas** y **modelos** de coches más vendidos en nuestro país.

¿Puedes responder ahora a estas preguntas?

1. ¿Cuál es la décima *marca* más vendida? ¿y la cuarta?
2. ¿Cuántas unidades vendió la *marca* Kia?
3. El *modelo* Volkswagen Golf vendió 24429 unidades. Verdadero o falso
4. El tercer *modelo* más vendido ha sido el Seat Arona. Verdadero o falso.
5. El *modelo* más vendido pertenece a la *marca* más vendida. Verdadero o falso.
6. ¿Cuántas unidades más de Renault Clio se vendieron que de Peugeot 3008?
7. ¿Cuál es la diferencia de unidades vendidas entre la primera y la última *marca*?
8. ¿Cuál es el total de unidades vendidas de los *modelos* pertenecientes a la *marca* Seat?
9. Ordena alfabéticamente las *marcas* que aparecen en el listado.
10. ¿Cuál es el logotipo de las diferentes *marcas* que más te gusta?  
¿Porqué?

## Las 20 mayores grandes fortunas del mundo

FORTUNA		País	Patrimonio En miles de millones de \$
1	Jeff Bezos	EE UU	116,2
2	Bill Gates	EE UU	113,5
3	Bernard Arnault	Francia	106,2
4	Warren Buffett	EE UU	89,1
5	Mark Zuckerberg	EE UU	79,4
6	Amancio Ortega	España	76,6
7	Larry Page	EE UU	65,2
8	Sergey Brin	EE UU	63,3
9	Charles Koch	EE UU	62,1
10	Julia Flesher Koch y familia	EE UU	62,1
11	Carlos Slim	México	61,5
12	Mukesh Ambani	India	59,5
13	Françoise Bettencourt Meyers	Francia	59,3
14	Larry Ellison	EE UU	59,3
15	Steve Ballmer	EE UU	58,5
16	Rob Walton	EE UU	54,5
17	Jim Walton	EE UU	54,4
18	Alice Walton	EE UU	53,3
19	Jack Ma	China	47,1
20	Jacqueline Badger Mars	EE UU	42,9

Fuente: Bloomberg

Observa la lista de las veinte mayores fortunas del mundo y responde a las siguientes preguntas:

1. Indica los diferentes continentes a los que pertenecen las personas de la lista.
2. ¿Cuál es el total de millones de dólares de las personas de la lista que son americanos?
3. ¿Cuál es la diferencia entre las dos fortunas francesas?
4. ¿Cuál es la diferencia de millones de dólares entre las fortunas americanas y las del resto del mundo?
5. Los puestos décimo tercero y décimo noveno son americanos. Verdadero o falso.
6. La nacionalidad del puesto sexto es....
7. La fortuna de los puestos noveno y décimo es la misma. Verdadero o falso
8. La diferencia entre el primer puesto y el vigésimo es de 73,3 millones de \$. Verdadero o falso.
9. El total de millones de dólares del quinto y del décimo puesto es de...
10. Escribe tres cosas que te gustaría hacer si fueras una de las personas más ricas del mundo.